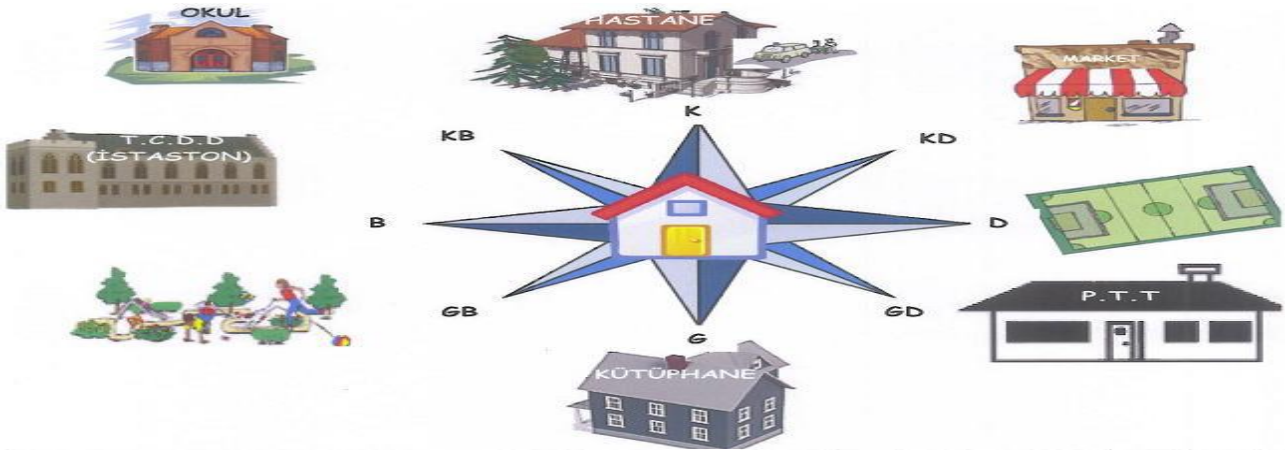


**\*\*\*Yönlerimiz\*\*\***



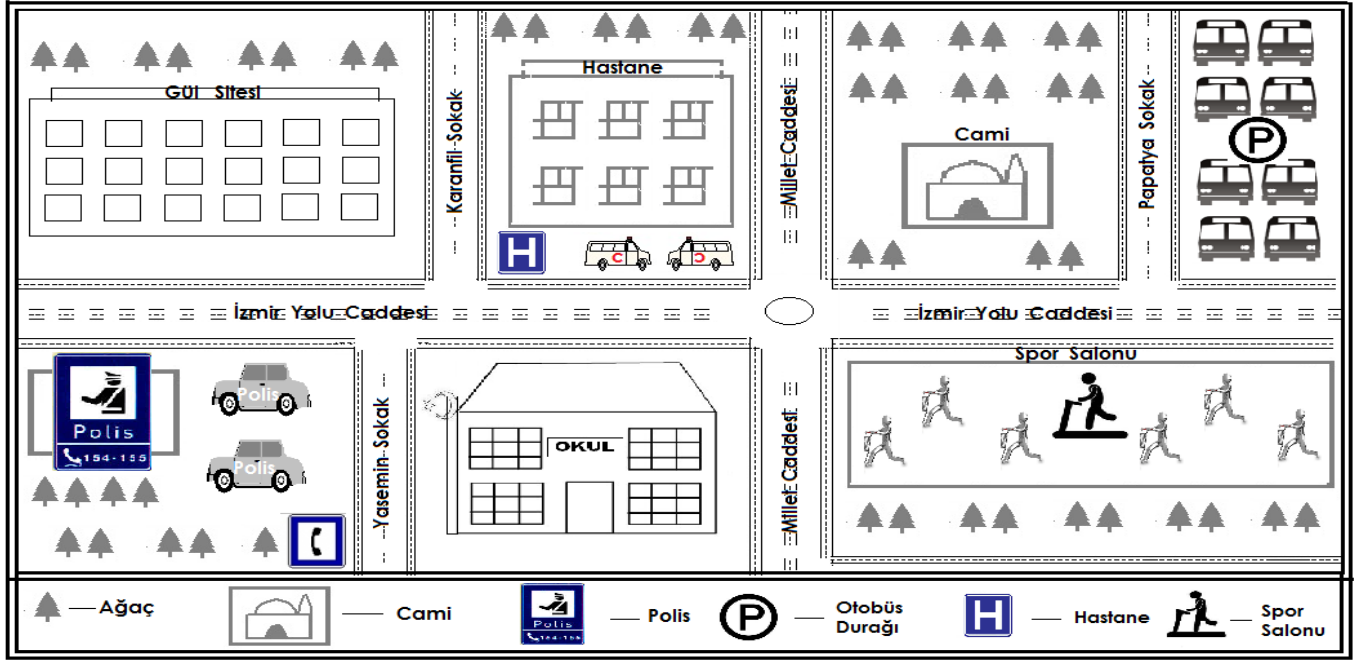
Kerimlerin evlerinin neresinde?	K	G	D	B	KB	KD	GD	GB
Kütüphane								
T.C.D.D: Türkiye Cumhuriyeti Devlet Demir Yolları (İstasyon)								
Hastane								
PTT								
Park								
Spor sahası								
Market								
Okul								

**\*\*\*Doğusunda, Batısında, Kuzeyinde, Güneyinde \*\*\***



- Okulun **DOĞUSUNDA** oyun parkı var.
- Pazar yeri, manavın .....
- Burçun evi, marketin .....
- Marketin ..... okul var.
- Oyun parkının ..... okul var.
- Pazar yeri, oyun parkının .....
- Burç'un evi, oyun parkının .....
- Okulun ..... market var.
- Manavın ..... Burç'un evi var.
- Pazar yerinin kuzeyinde .....var.

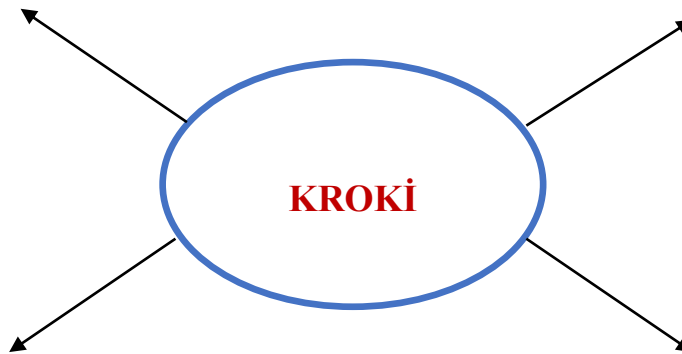
\*\*\*Kroki\*\*\*



Çocuklar; aşağıdaki soruları yukarıdaki krokiye göre cevaplayınız.

- 1- Polis merkezi, okulun.....yer alır.
- 2- Hastanenin batısında .....bulunmaktadır.
- 3- Spor salonun kuzeyinde .....ve .....bulunmaktadır.
- 4- Okul, spor salonun .....bulunmaktadır.
- 5- Hastanenin güneyinde .....yer alır.
- 6- Parkın batısında .....bulunmaktadır.

\*\*\* Kavram Haritam \*\*\*



**\*\*\*Okulumun Krokisi\*\*\***

**\*\*\*Sınıfımın Krokisi\*\*\***

Sınıfınızın krokisini çizip sıranızı işaretleyiniz.

