




A. Şekillerde boyalı kısımları kesirli sayı olarak ifade edelim

1.  = _____


2.  = _____


3.  = _____


4.  = _____

5.  = _____

6.  = _____


7.  = _____


8.  = _____


9.  = _____

10.  = _____


11.  = _____

12.  = _____

13.  = _____

14.  = _____


15.  = _____


16.  = _____


17.  = _____

18.  = _____

19.  = _____

20.  = _____

21.  = _____

22.  = _____

